





Pripravi si prostor za šolsko delo. Pazi na držo telesa med delom. Med dejavnostmi



in pij



.

TOREK, 31. 3. 2020	NAVODILO ZA DELO ZA 2. razred	KAJ SO IZDELKI UČENCA?	OVREDNOTIM SVOJE DELO 
RAČUNAM 	<p>Pod tabelo preveri svoje računanje od včeraj. Danes boš odšteval. V zvezek s kvadratki napiši naslov Odštevanje. Zapiši račune in jih izračunaj tako, da s prstom potuješ po stotičnem kvadratu: $60 - 3 =$, $50 - 1 =$, $90 - 2 =$, $40 - 7 =$, $30 - 9 =$. Sedaj pa dobro preberi navodila na povezavi in izračunaj račune na koncu zapisa: http://www.os-sostanj.si/files/2020/03/Od%C5%A1tevanje-desetic.pdf Računanje si lahko razporediš na dva dela in jih nekaj rešiš jutri.</p>	<ul style="list-style-type: none"> - Zapis v zvezek. - Izračunani računi odštevanja. - Samovrednoti svoje delo 	
TJA	Glej angleščina	<ul style="list-style-type: none"> - Samovrednoti svoje delo 	

VPRAŠANJA ZA VREDNOTENJE: Kaj sem se danes učil? Kaj mi je šlo dobro? Kaj moram popraviti? Kako sem se počutil v šoli doma? Bi kaj želel predlagati? Kaj bi sporočil svoji učiteljici in sošolcem? Po delu očisti svoje potrebščine



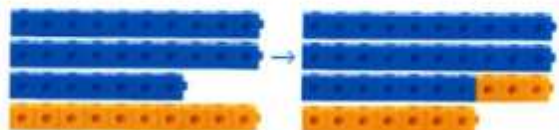
in jih pripravi za naslednji dan.

NE POZABI NA BRALNI TRENING.

MATEMATIKA – rešitve



1. Milo in Svit sta iz 27 modrih in 10 rumenih link kock naredila robota.
Koliko link kock sta uporabila?



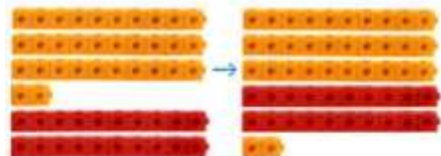
$$20 + 10 = 30$$
$$30 + 7 = 37$$

Račun: $27 + 10 = 37$

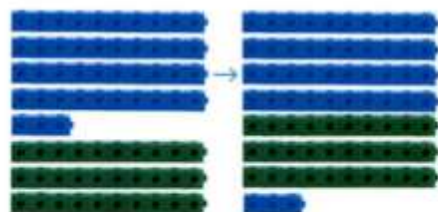
Odgovor: Uporabila sta 37 link kock.



2. Seštej.



$$32 + 20 = 52$$



$$43 + 30 = 73$$



3. Izračunaj.

$13 + 40 = 53$

$77 + 20 = 97$

$46 + 40 = 86$

$78 + 10 = 88$

$80 + 20 = 100$

$24 + 30 = 54$

$27 + 60 = 87$

$39 + 50 = 89$

$82 + 10 = 92$

$41 + 40 = 81$

$64 + 0 = 64$

$90 + 10 = 100$