

ČRTIČNI PRIKAZ





Primer:

1. Pavel, Andrej, Anja in Miša so metali pikado. Število točk so prikazali s črtičnim prikazom. HHH = število 5 (pet črtic)

OTROCI	ŠT. TOČK	ŠT. TOČK
Pavel	HHH I	<input type="text" value="6"/>
Andrej	HHH HHH I	<input type="text" value="11"/>
Anja	HHH HHH	<input type="text" value="10"/>
Miša	HHH III	<input type="text" value="8"/>

- a) Kdo je zbral najmanj točk? Peter.
b) Koliko? 6.
c) Koliko točk sta zbrala oba dečka? 17.
d) Koliko točk sta zbrali obe deklici? 18.
e) Koliko manj točk kot deklici sta zbrala dečka? 1 točko manj.
2. Na kmetiji je Rok preštel živali Oblikoval je črtični prikaz. Oblikuj prikaz z vrsticami.

ŽIVALI	ŠTEVILO ŽIVALI	
koze	HHH II	<input type="checkbox"/> je 1 žival
kokoši	HHH HHH	
prašiči	HHH HHH I	

KOZE		
KOKOŠI		
PRAŠIČI	